



**Числа от 1 до 10.
Сложение и
вычитание вида**

+1, +2, +3



**Математика
1 класс
Тест 3**



Вопрос № 1

Если 9 уменьшить на 2, сколько получится?

A	B	C	D
7	6	5	4

Вопрос № 2

Чему равна сумма чисел 5 и 3?

A	B	C	D
2	7	8	3

Вопрос № 3

Уменьшаемое 4, вычитаемое 2. Чему равна разность?

A	B	C	D
6	3	7	2

Вопрос № 4

Оля вымыла 6 тарелок, а Юля вымыла 3 тарелки. Сколько тарелок вымыли девочки вместе?

A	B	C	D
3	9	8	4

Вопрос № 5

На дереве сидело 10 синиц. 3 синицы улетело.
Сколько птиц осталось?

A	B	C	D
7	6	8	5

Вопрос № 6

Карточка с каким числом перевернута?

$$7 + \square < 9$$

A

B

C

D

1





2

3

4

Вопрос № 7

У Кати было 6 зелёных воздушных шариков, а жёлтых на 2 шарика меньше. Сколько жёлтых воздушных шариков было у Кати?

 A	 B	 C	 D
8	7	5	4

Вопрос № 8

Найди закономерность и продолжи ряд чисел.

Какое число будет следующим?

1, 3, 5...

A	B	C	D
6	7	8	9

Вопрос № 9

В каком порядке нужно расставить числа в выражении $\square - \square - \square = 2$, чтобы равенство получилось верным?

A	B	C	D
1, 3, 6	3, 6, 1	1, 6, 3	6, 3, 1

Вопрос № 10

Найди выражение с ошибкой.

A

$$7 - 3 = 4$$

B

$$10 - 2 = 8$$

C

$$2 + 3 = 6$$

D

$$5 + 3 = 8$$

Литература:

Фефилова Е.П., Мокрушина О.А., Дмитриева О. И.
Поурочные разработки по математике :1 класс. –
4-е изд., испр. и доп.- М.: ВАКО, 2009.

Источники:

<http://puzkarapuz.org/81464-ramka-veselaya-matematika.html>-рамка